

## Géographie : exercices de révision

### 1. Les limites

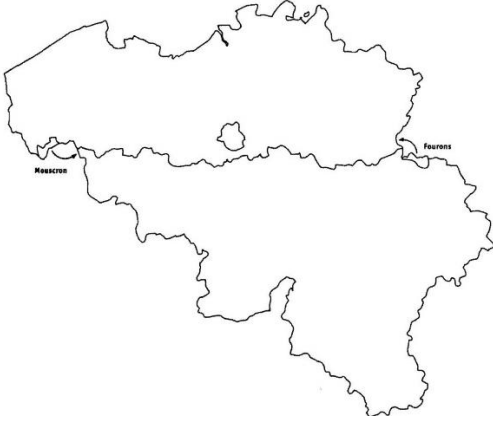
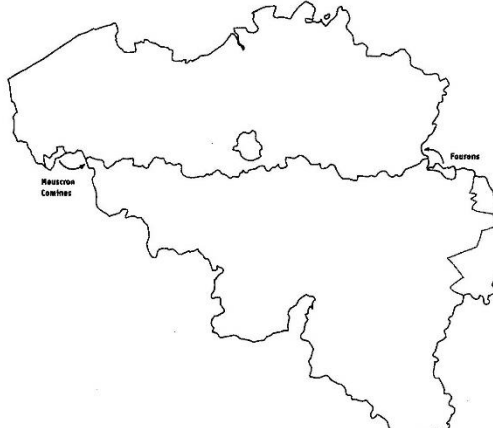
- a. Indique dans le tableau suivant si les limites suivantes sont des limites naturelles ou humaines. /10

Les Alpes – La province de Namur - Le Sillon Sambre et Meuse – Frontière Belgique/France - Le continent asiatique – La zone euro – L'Atlas – la mer Noire – L'espace Schengen – L'État d'Oklahoma

Limites naturelles	Limites humaines

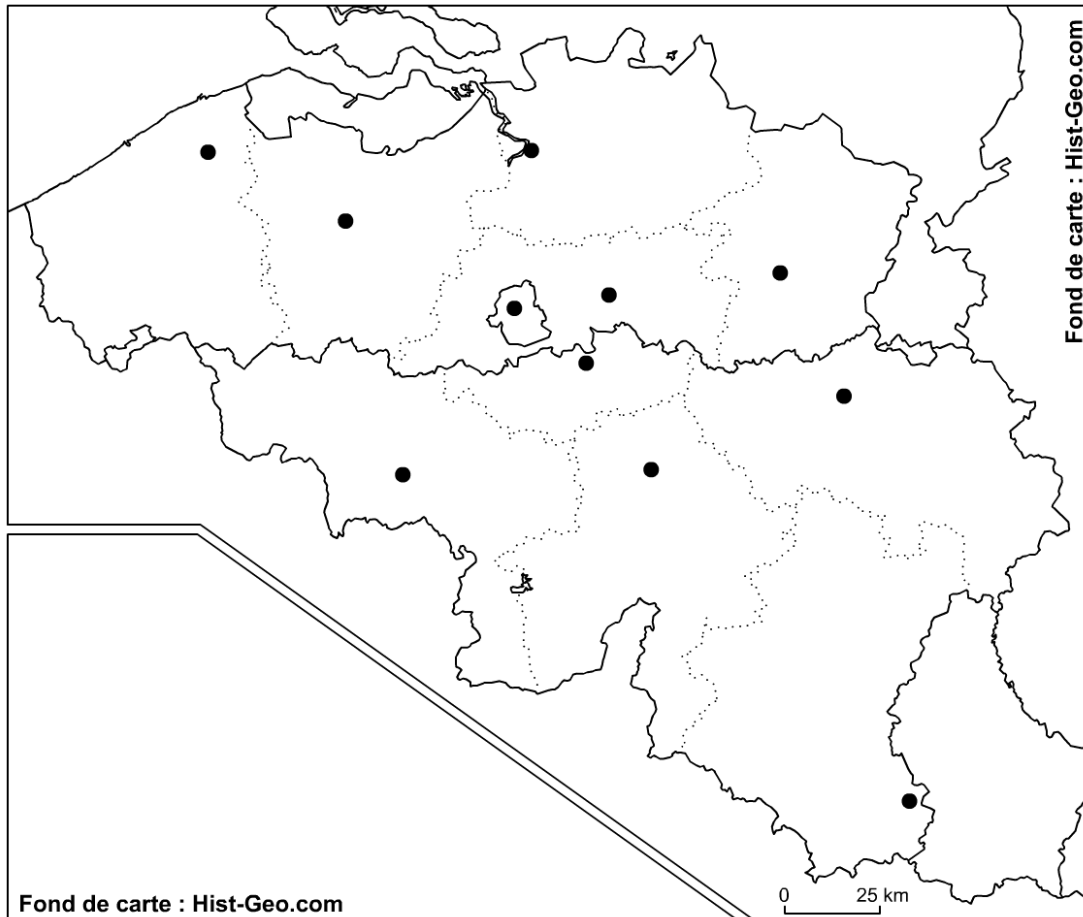
### 2. La Belgique

- a. Complète logiquement le tableau ci-dessous.

Les régions (territoires)	Les communautés (langues)
	
Légende	Légende
<input type="radio"/> <input type="radio"/> <input type="radio"/>	<input type="radio"/> <input type="radio"/> <input type="radio"/>

**b. À partir de la carte ci-dessous, tu dois effectuer les étapes suivantes.**

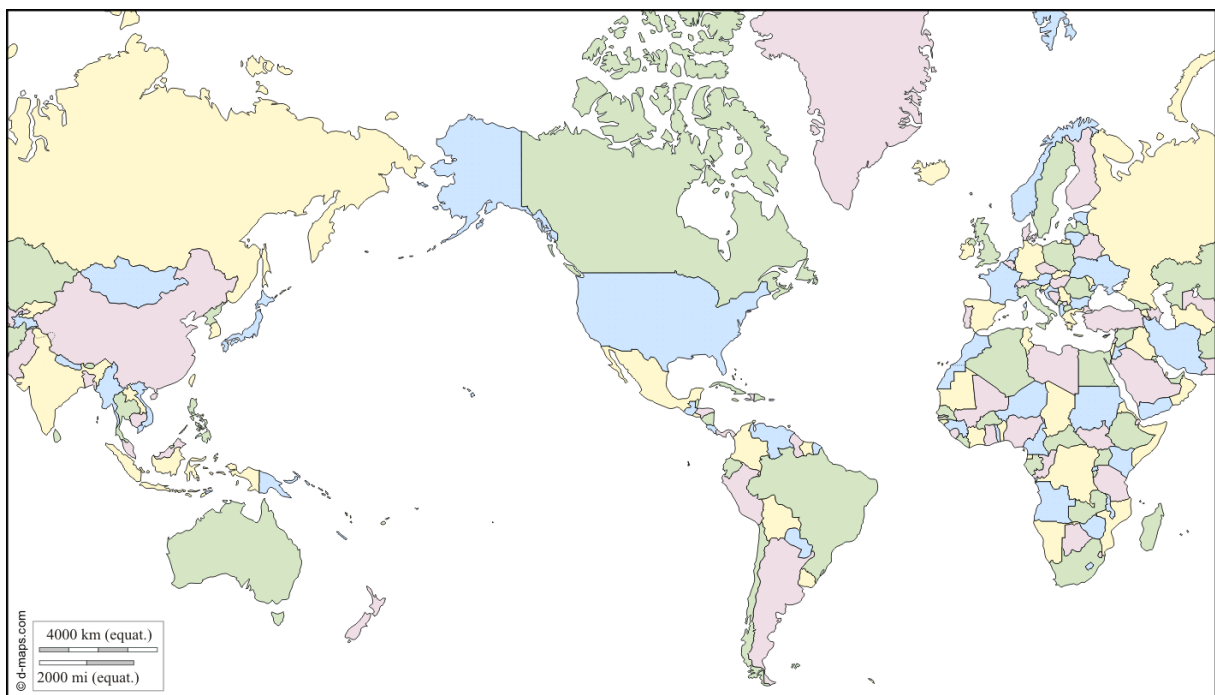
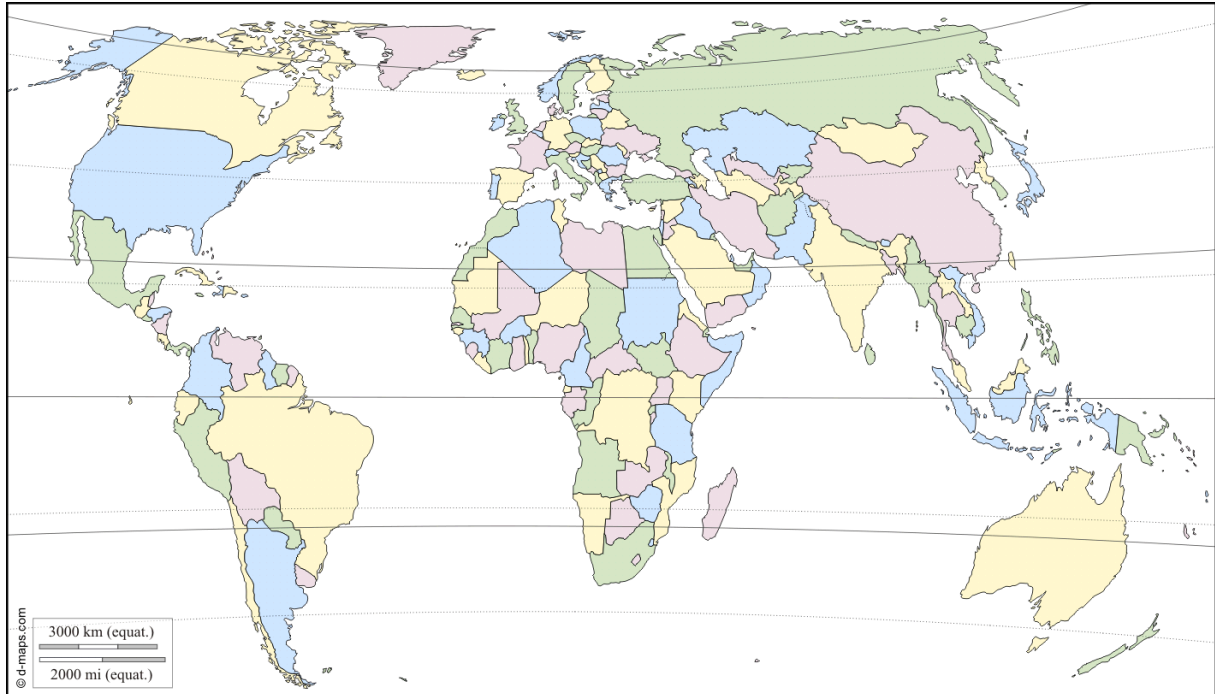
- a) Indique les pays limitrophes de la Belgique.
- b) Numérote les provinces flamandes de 1 à 5 d'ouest en est.
- c) Numérote les provinces wallonnes de 6 à 10 d'ouest en est.
- d) Colorie chaque province à l'aide d'une couleur différente.
- e) Indique le nom des chefs-lieux.
- f) Complète le tableau récapitulatif.



Les provinces flamandes	Les provinces wallonnes
1.	6.
2.	7.
3.	8.
4.	9.
5.	10.

### 3. Le monde

a. Remplace les continents et les océans sur chacune des cartes. Attention à leur orientation ! Note le nom des lignes imaginaires et des zones bioclimatiques sur la carte 1.



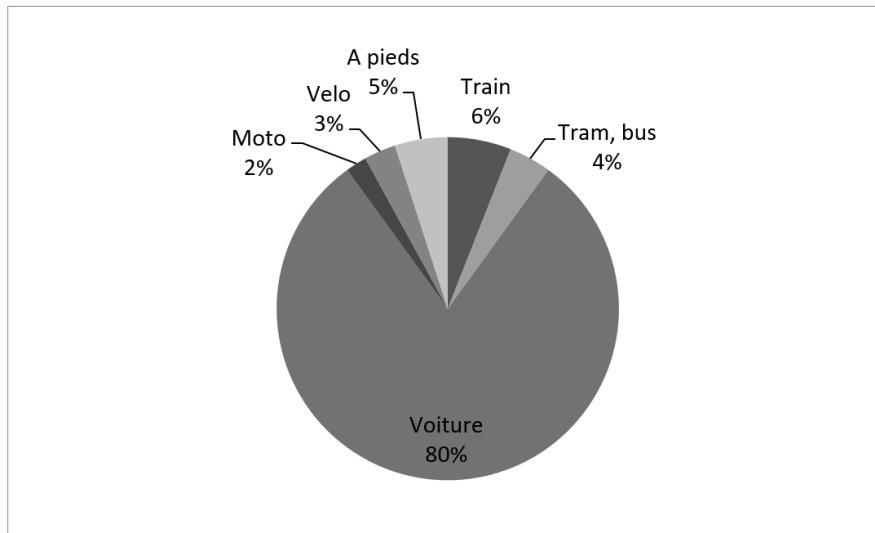
Source : <<http://d-maps.com/>>

Tu trouveras également des jeux pour t'entraîner sur Internet :

- <<http://www.jeux-geographiques.com>> ;
- <<http://www.belgique.learningtogether.net>>.

#### 4. Analyse de graphique

##### Doc 6 : Les moyens de transport les plus utilisés dans la commune de Braine l'Alleud



Source : D'après  
Recensement de la  
population et des  
logements, Statbel, 2011.

##### a. Complète le tableau suivant

→ Aide-toi de la fiche outil : lire un tableau de données chiffrées.

<b>Sujet du graphique</b>	
<b>Territoire est concerné</b>	
<b>Période concernée</b>	
<b>Voie de communication</b>	
<b>Flux</b>	
<b>Type de données</b>	

**b. De nombreuses personnes vivent à Ophain mais travaillent dans une autre ville. Lis le tableau de données chiffrées (Doc. 5) et réponds aux questions suivantes**

a) Dans quelle province, les Brainois travaillent-ils le plus et donne leur nombre ? .....

b) Combien de Brainois travaillent-ils dans l'arrondissement de Nivelles ?  
.....

**Doc 5 : Les déplacements des navetteurs**

Lieu de résidence	Arrondissement, province du lieu de travail									
	Arr. Anvers	Arr. Malines	Arr. Turnhout	Prov. Anvers	Arr. Bxl-Capitale	Arr. Hal-Vilvorde	Arr. Louvain	Arr. Nivelles	Prov. Brabant wallon	Arr. Bruges
Arr. Nivelles	1319	476	225	3	46 501	7356	1590	78 950	80 474	196
Braine-l'Alleud	110	54	21	0	6119	870	49	7422	7584	21

Source : *Déplacement domicile-lieu de travail*, Statbel, 2011.